

مدرسة راهبات الناصرة - شفاعمرو

التاريخ : 24-3-09


الاسم : _____

الفصل الثاني

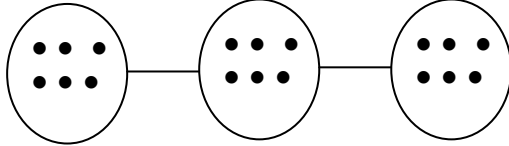
امتحان في الضرب

الصف الثاني

1 { افحصوا كل قطار : إذا كان يُلائمه تمرين ضرب - أكملوا.



إذا لا - امحوا بخط : (4 علامات)



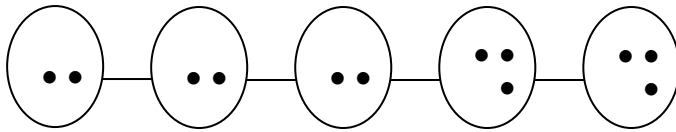
(أ)

_____ خنافس

_____ بقع على كل خنفسة

_____ بقعة في المجموع الكلّي

تمرين الضرب



(ب)

_____ خنافس

_____ بقع على كل خنفسة

_____ بقعة في المجموع الكلّي

تمرين الضرب

2 { حلّوا تمارين الجَمْع .

إذا أمكن اكتبوا تمرين ضرب وحلّوه. إذا تعذّر ذلك فاشطب بخط / . (10 علامات)

أ) $6 + 6 + 6 + 5 = \underline{\hspace{2cm}}$

تَمْرِين الضَّرْب

ب) $4 + 4 + 4 = \underline{\hspace{2cm}}$

تَمْرِين الضَّرْب

ج) $0 + 0 + 0 + 0 + 0 = \underline{\hspace{2cm}}$

تَمْرِين الضَّرْب

د) $5 + 5 + 5 + 1 + 1 + 1 = \underline{\hspace{2cm}}$

تَمْرِين الضَّرْب

هـ) $7 + 7 = \underline{\hspace{2cm}}$

تَمْرِين الضَّرْب

3 { ضَع إِشَارَةَ (+ , - , ×) فِي الْمَكَانِ الْخَالِي : (6 علامات)

أ) $8 \underline{\hspace{1cm}} 3 = 5$

د) $5 \underline{\hspace{1cm}} 1 = 4$

ب) $8 \underline{\hspace{1cm}} 3 = 24$

هـ) $5 \underline{\hspace{1cm}} 1 = 6$

ج) $8 \underline{\hspace{1cm}} 3 = 11$

و) $5 \underline{\hspace{1cm}} 1 = 5$

4 { حلّوا تمارين الضرب الآتية : (14 علامة)

$0 \times 6 = \underline{\quad}$

$\underline{\quad} \times 6 = 36$

$2 \times 7 = \underline{\quad}$

$2 \times \underline{\quad} = 16$

$3 \times 5 = \underline{\quad}$

$5 \times \underline{\quad} = 50$

$9 \times 2 = \underline{\quad}$

$7 \times \underline{\quad} = 0$

$4 \times 4 = \underline{\quad}$

$\underline{\quad} \times 8 = 8$

$10 \times 3 = \underline{\quad}$

$5 \times 6 = \underline{\quad}$

$1 \times 9 = \underline{\quad}$


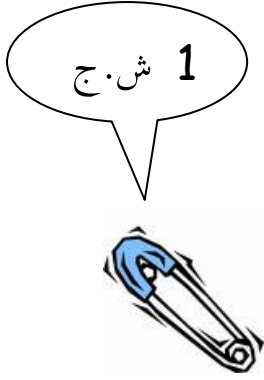
$\underline{\quad} \times \underline{\quad} = 25$

5 { أكملوا بأعداد مُختلِفة في كُلِّ بند : (6 علامات)

أ)	$7 \times \underline{\quad} > 10$	$7 \times \underline{\quad} > 10$	$7 \times \underline{\quad} > 10$
ب)	$5 \times \underline{\quad} < 25$	$5 \times \underline{\quad} < 25$	$5 \times \underline{\quad} < 25$

6 { اشترت أم هلن أغراضاً من الدكان ، كم شاقلاً دفعت ثمن كل غرض ؟

أكملوا الجدول . (10 علامات)



الثمن	تمرين الضرب	الهدايا
		3 دمي
		شمعتان
		4 حقائب
		9 دبابيس
18 ش.ج		شمعات _____

